


## 1 Dessine la somme de 1€.

Avec des pièces de  :

Avec des pièces de  :

## 2 Complète (fais des paquets de 1€ quand tu peux) :



..... € ..... c



..... € ..... c



..... € ..... c



..... € ..... c



..... € ..... c



..... € ..... c

**1** Barre les pièces ou les billets en trop.


7 € 60 c

6 € 54 c

**2** Dessine 1€ 40c de 3 manières différentes, sans utiliser  .

**3** Karim achète 1 part de tarte à 1€60c et 3 bonbons à 20c.  
Combien dépense-t-il ?

**1** Dessine le moins de pièces et de billets possible pour payer ces objets.






Enveloppe  
et timbre :  
1 € 70



Paire de  
baskets :  
34 € 90

**2** Voici ce que contiennent les portemonnaies de Léane et Adrien. Combien possède chaque enfant ?



3 Observe, puis écris la somme que la marchande rend à Mila. Pour t'aider, tu peux faire un schéma sur ton ardoise.


La marchande lui rend :

L'objet coute :

Mila donne :



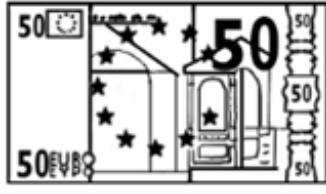
7 € 50 c



Blank space for writing the change.



27 € 60 c



Blank space for writing the change.



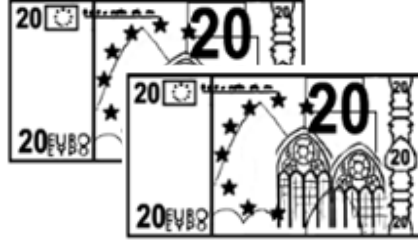
15 € 40 c



Blank space for writing the change.




34 € 90 c



Blank space for writing the change.



45 € 20 c



Blank space for writing the change.