


Exercices de numération 2.


Exercice 1 :

Observe comment ces demi-droites sont graduées et associe chaque nombre à une lettre :

0,4 • 1,2 • 3,42 • 5,6 • 4,85 • 2,4 • 3,6 • 4,12 • 3,91 • 4,4 • 3,73 • 4,64

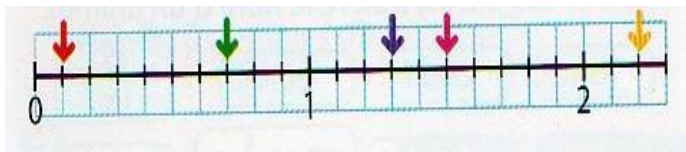


Exercice 2 : Place les nombres sur cette demi-droite graduée.

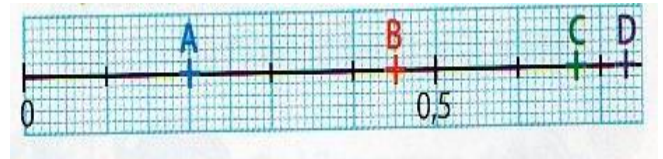


Exercice 3 :

Retrouve le nombre décimal représenté par chaque flèche.

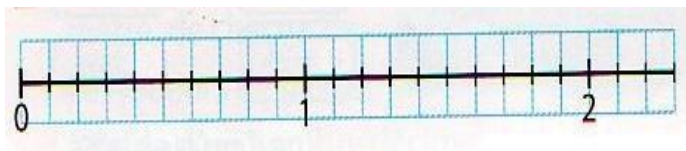


Exercice 4




Exercice 5 :

Place les nombres. 1,7 • 0,2 • 0,9 • 1,5 • 2,1




Exercice 6

Place les nombres. 0,01 • 0,14 • 0,08 • 0,12 • 0,05



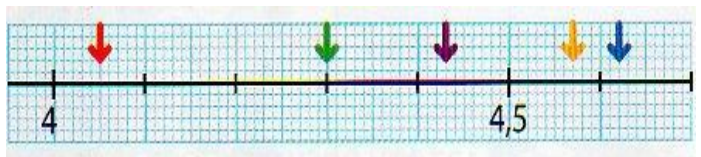
Exercice 7 :

Place les nombres. 15,4 • 16,1 • 14,8 • 15,9 • 16,5




Exercice 8

Retrouve le nombre décimal représenté par chaque flèche.



Exercice 9 :

Place les nombres. 9,1 • 9,28 • 9,04 • 9,56 • 8,95
flèche



Exercice 10

Retrouve le nombre décimal représenté par chaque

