



1 Observe et nomme ces différents solides.



1 Observe et nomme ces différents solides.



Un cône



Un cube



Un cylindre




Une sphère



Un prisme



Un pavé



Une pyramide

CORRECTION