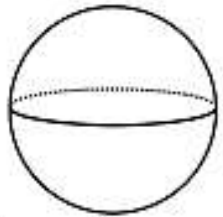
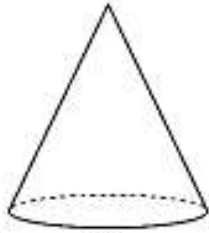


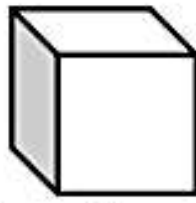
1. Ces figures sont-elles des polyèdres ?



Oui Non



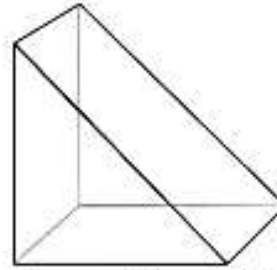
Oui Non



Oui Non



Oui Non


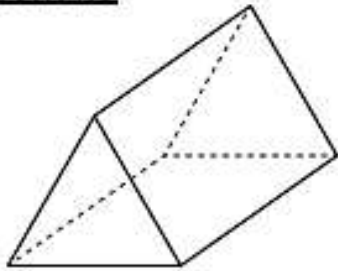


Oui Non



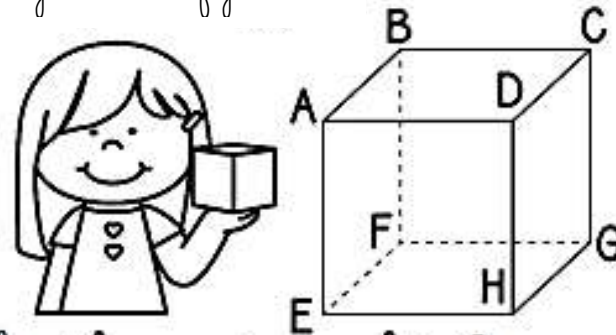
Oui Non

2. Observe ces solides, puis réponds aux questions.



- Marque leurs sommets en vert.
- Repasse leurs arêtes en bleu.
- Colorie deux faces opposées en jaune.

3. a) Regarde cette figure



- Quel est le nom de ce solide ?
- Quelle est la forme de ses faces ?