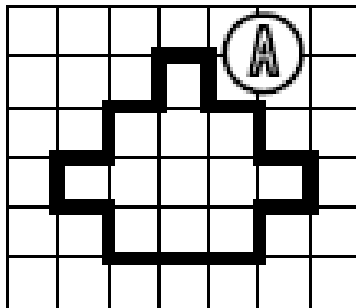
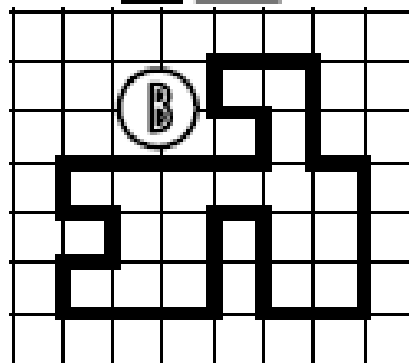


① Exprime l'aire de chaque surface avec l'unité choisie.

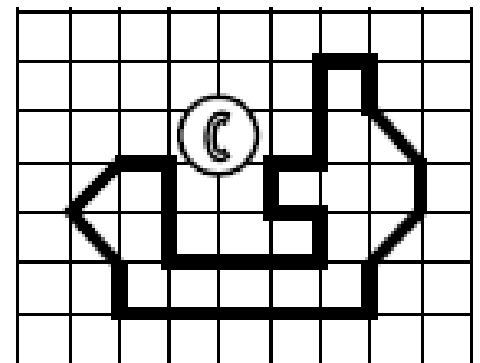
□ unité 1



A = unités d'aire

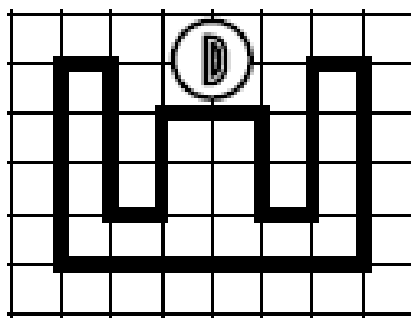


B = unités d'aire




C = unités d'aire

□
unité 2



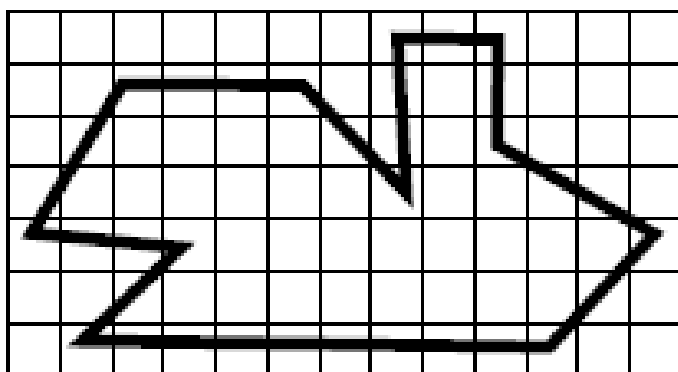
D = unités d'aire

▽ unité 3



E = unités d'aire

② Estime l'aire de cette surface.



L'aire de cette surface est comprise entre carreaux et carreaux.

③ Dessine 3 figures qui auront une aire de 12 unités A mais pas la même forme.

□ unité A

④ Dessine 3 figures qui auront une aire de 28 unités B mais pas la même forme.

▽ unité B

<https://laclassedevie.fr/>

Mesures / l'aire