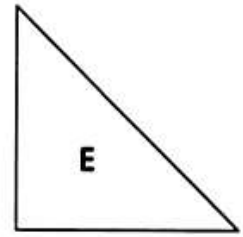
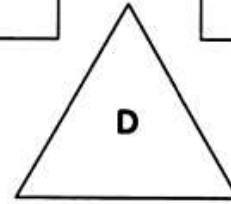
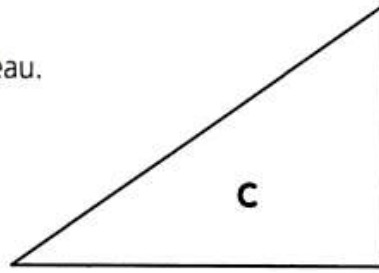
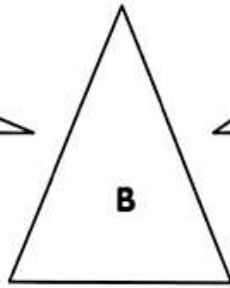
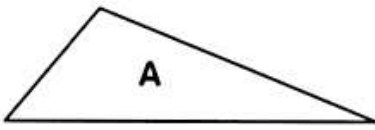


1 Observe ces triangles et complète le tableau.



Triangles	Nombre de côtés de même mesure	Y a-t-il des angles droits ?		Nom du triangle
		oui	non	
<b>A</b>		oui	non	
<b>B</b>		oui	non	
<b>C</b>		oui	non	
<b>D</b>		oui	non	
<b>E</b>		oui	non	

Mesure les côtés et utilise ton équerre pour les angles droits

