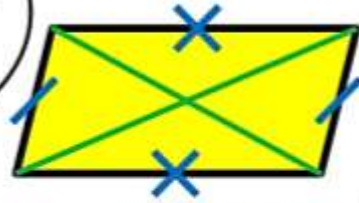
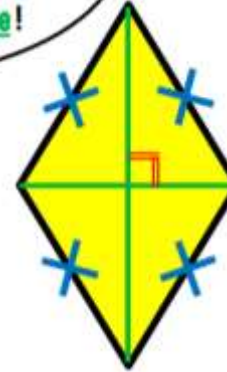


- Il n'a **pas d'angle droit!**
- Ses **côtés** sont **égaux 2 par 2.**
- Ses **diagonales** sont **de longueur différente!**



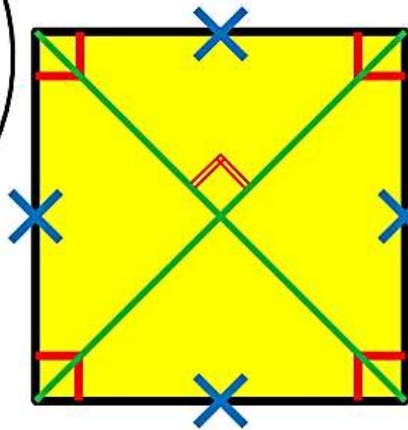
**Le parallélogramme quelconque**

- Il n'a **pas d'angle droit!**
- Ses **4 côtés** sont **égaux.**
- Ses **diagonales** sont **perpendiculaires** mais **de longueur différente!**



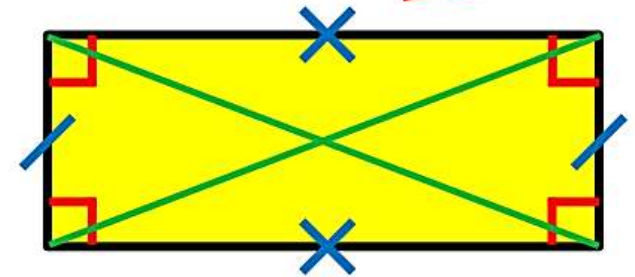
**Le losange**

- Il a **4 angles droits.**
- Il a **4 côtés égaux.**
- Ses **diagonales** sont **perpendiculaires** et ont **même longueur!**



**Le carré**

- Il a **4 angles droits.**
- Ses **côtés** sont **égaux 2 par 2.**
- Ses **diagonales** ont **même longueur!**



**Le rectangle**