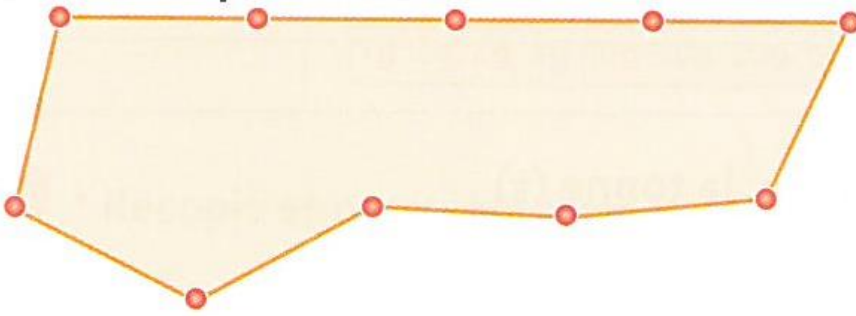


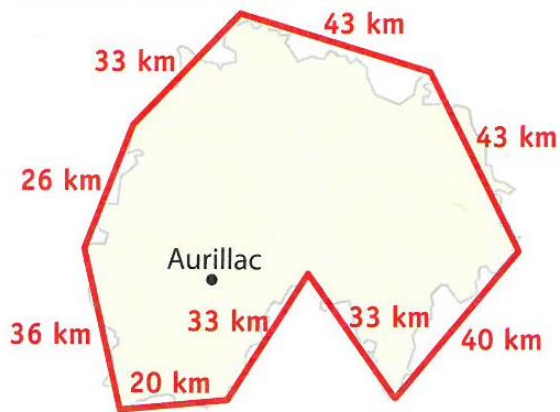
**5** \* **PROBLÈME** La maitresse a placé un élève tous les 5 mètres autour de la cour.  
**Quel est le périmètre de la cour ?**



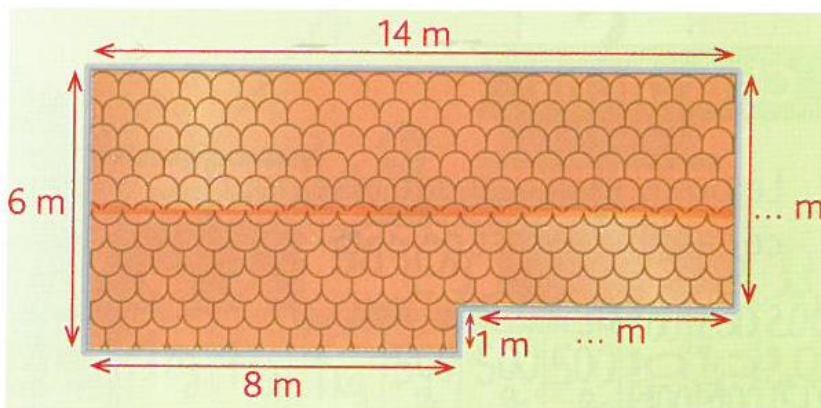
**6** \* **PROBLÈME** Léon a entrepris le tour du Cantal en hélicoptère. **Quelle distance aura-t-il parcourue à la fin de son voyage ?**



Regroupe astucieusement les distances.



**7** \* \* **PROBLÈME** Madame Pleutro décide de mettre une gouttière tout autour de son toit.  
**Quelle longueur de gouttière doit-elle acheter ?**



### Problème 5

$$P : 5 \times 10$$

$$P : 50 \text{ m}$$

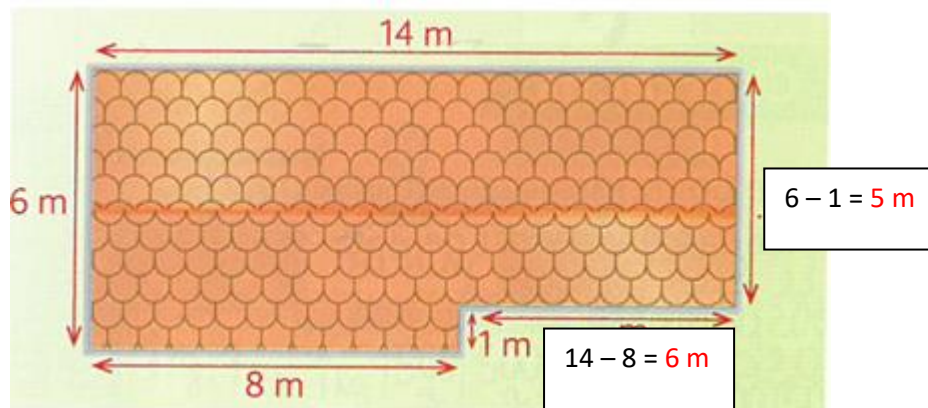
La cour a un périmètre de 50 m.

### Problème 6

$$43 + 43 + 40 + 33 + 33 + 20 + 36 + 26 + 33 = 307$$

Il aura parcouru 307 km à la fin de son voyage.

### Problème 7



$$P : 14 + 5 + 6 + 1 + 8 + 6$$

$$P : 40 \text{ m}$$

Elle doit acheter 40 m de gouttière.