

## J'apprends à lire l'heure (suite) :

Mardi j'ai appris que :

Quelques conversions à connaître :

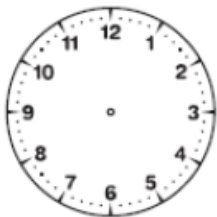
- 1 jour = 24 heures
- 1 heure = 60 minutes
- 1 minute = 60 secondes



Je sais aussi lire les heures « pile » :

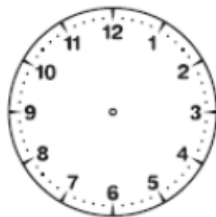
Complète :

(1)



Il est midi

(6)



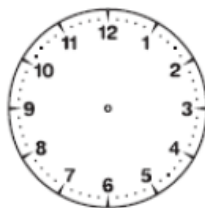
Il est sept heures

(2)



Il est deux heures

(12)



Il est une heure

6)



Il est \_\_\_\_\_

(11)



Il est \_\_\_\_\_

7)



Il est \_\_\_\_\_

(12)



Il est \_\_\_\_\_

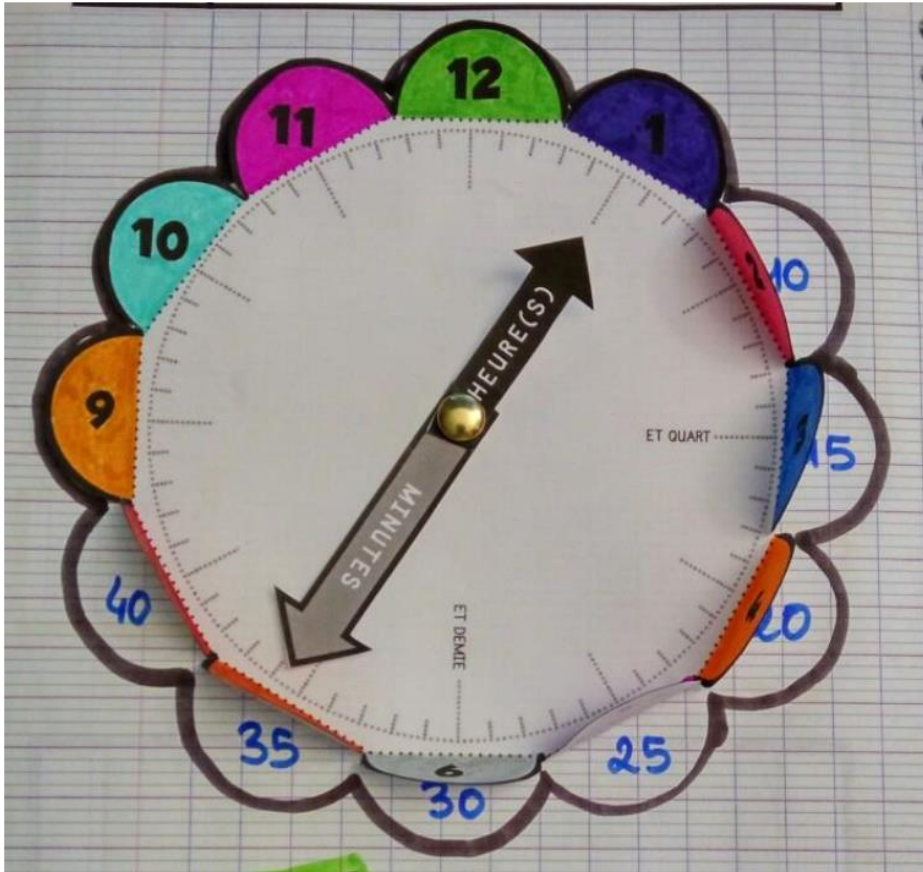
Pour donner l'heure de l'après-midi, j'ajoute 12.  
Exemple : 2 h 00 (matin) → 14 h 00 (après-midi)

Regarde maintenant la vidéo :

En CE1, les élèves doivent uniquement retenir l'heure « et quart » et « et demi ». Dans cette vidéo, il y a davantage d'explications mais elles aideront votre enfant à comprendre sans leur demander les retenir.

<https://www.youtube.com/watch?v=7cVl6oawZuE>

Tu peux maintenant écrire sur ton cadran (dans ton cahier de leçons) les minutes :



Au CE1 on retiendra :

Sur cette horloge, on peut voir 2 aiguilles :

- ☐ La petite : elle indique les heures.
- ☐ La grande : elle indique les minutes.



Il faut 60 minutes pour faire une heure. Quand la grande aiguille fait un tour de cadran, la petite aiguille avance d'une heure.



La grande aiguille est sur le 12.

9 h 00  
Il est neuf heures.



La grande aiguille est sur le 3.

11 h 15  
Il est onze heures et quart.



La grande aiguille est sur le 6.

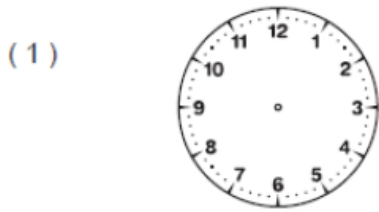
10 h 30  
Il est dix heures et demie.

- un quart d'heure = 15 minutes
- une demi-heure = 30 minutes
- une heure = 60 minutes

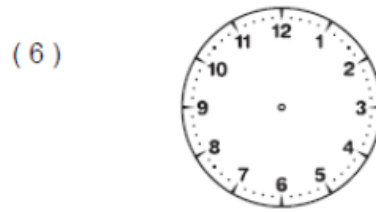


**Je vérifie que j'ai compris :** (votre enfant peut répondre à l'oral ou répondre en plaçant correctement les aiguilles sur son cadran pour ne pas imprimer) :

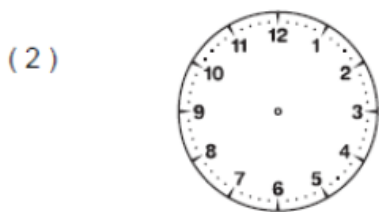
Demandez à votre enfant de donner les deux désignations : deux heures et demie = deux heures trente minutes



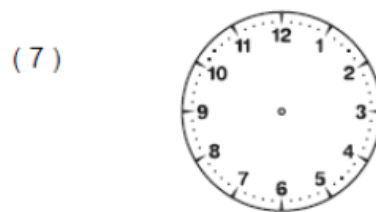
Il est six heures et demie



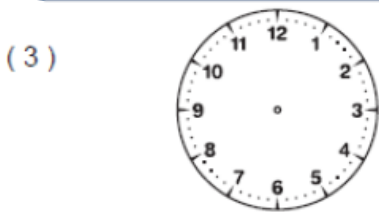
Il est dix-huit heures



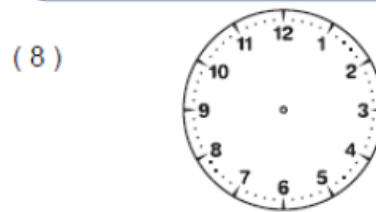
Il est neuf heures et demie



Il est une heure



Il est vingt heures



Il est quatre heures et demie



Il est sept heures et demie



Il est \_\_\_\_\_



Il est \_\_\_\_\_



Il est \_\_\_\_\_



Il est \_\_\_\_\_



Il est \_\_\_\_\_

Tu peux maintenant faire le fichier de maths page 70 (correction à la fin du plan de travail)