

Exercice 5

Décompose pour calculer.

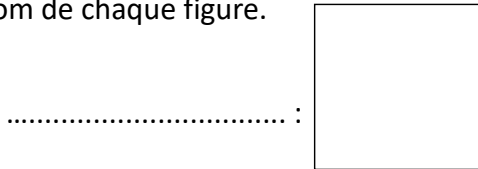
$$342 + 216 = 300 + 200 + 40 + 10 + 2 + 6 = 500 + 50 + 8 = 358$$

$$256 + 323 = \dots + \dots + \dots + \dots + \dots + \dots = \dots + \dots + \dots = \dots$$

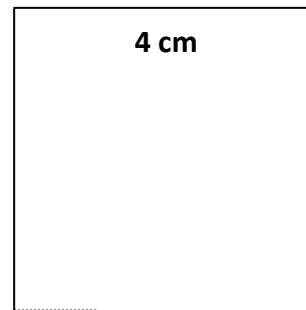
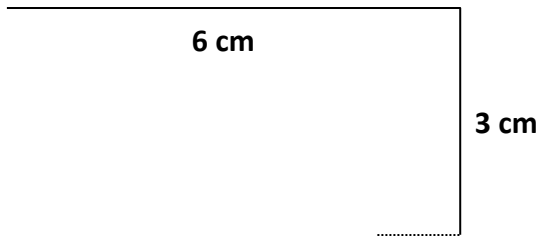
$$435 + 214 = \dots + \dots + \dots + \dots + \dots + \dots = \dots + \dots + \dots = \dots$$

Exercice 1

Écris le nom de chaque figure.

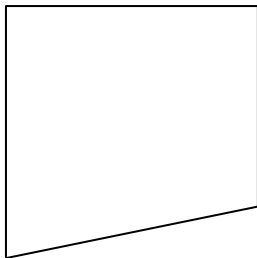


Termine le tracé du carré et le tracé du rectangle.



Exercice 3

Explique pourquoi cette figure n'est pas un carré.



.....
.....
.....

Exercice 1

Sofia a fait une course de 600 m.
Léa a couru 100 m de moins qu'elle.
Quelle distance Léa a-t-elle parcourue ?

.....

À la kermesse de l'école, Jade a dépensé 12 € et
Yanis a dépensé 6 € de plus.
Quelle somme Yanis a-t-il dépensée ?

.....

