

Jeudi 28 mai **CE2** :




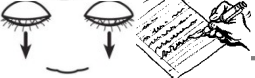
LECTURE compréhension :

Voir lien : Pour garder une bonne santé

Lire le texte dans sa tête puis répondre aux questions.

Orthographe Je révise mes mots pour jeudi :

Mots : crier, hier, un fermier, dernier, premier, du papier, bien, rien, un champion, un voyage, une famille, une fille gentille

	1) J'épelle le mot les yeux ouverts
	2) J'épelle le mot les yeux fermés
	3) J'écris le mot les yeux ouverts
	4) J'écris le mot les yeux fermés

Je recommence dans l'ordre ces 4 étapes tant que je n'orthographe pas correctement le mot.

Orthographe : Le féminin des noms (suite)

Voir fiche en lien

Mathématiques :

Calcul minute : tableau du jeudi

CE2 : Calcul je multiplie par 10,100,30,200...:

Page 68 de ton manuel :

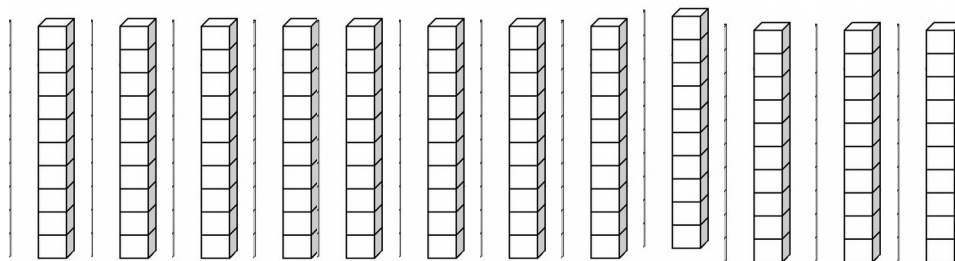
Regarde le problème : La fête du village

Tu dois trouver le nombre de guirlandes, de ballons, d' assiettes, et de gobelets.

Par exemple pour les guirlandes :

Il y a 12 lots de 10 guirlandes.

C'est à dire 12 paquets de 10.



Tu sais que tu dois faire 12×10 pour trouver combien il y a de guirlandes.

C'est comme si tu avais 12 dizaines !

C	D	U
1	2	0

Donc 120 !

Cherche le nombre de ballons, d' assiettes, et de gobelets.

Regarde la correction et lis le mémo.

Tu peux maintenant faire les exercices : 2,3,4 page 68 et 9 page 69

Espace : Les montagnes

voir Lien : regarde le diaporama puis complète la fiche élève

Correction :

2 a. 5×10 c'est 5 **dizaines**, c'est-à-dire **50**.

b. 180

c. 250

3 a. 7×100 c'est 7 **centaines**, c'est-à-dire **700**.

b. 500

4 a. 9×10 c'est 9 dizaines, c'est-à-dire 90 donc $9 \times 10 = 90$.

Autres résultats : **b.** 40 **c.** 800 **d.** 200 **e.** 940 **f.** 750

9 a. $7 \times 3 = 21$ et $21 \times 10 = 210$ donc $7 \times 30 = 210$.

d. $10 \times 30 = 300$ et $7 \times 30 = 210$ donc $17 \times 30 = 300 + 210 = 510$.

Autres résultats : **b.** 320 **c.** 450 **e.** 720 **f.** 960