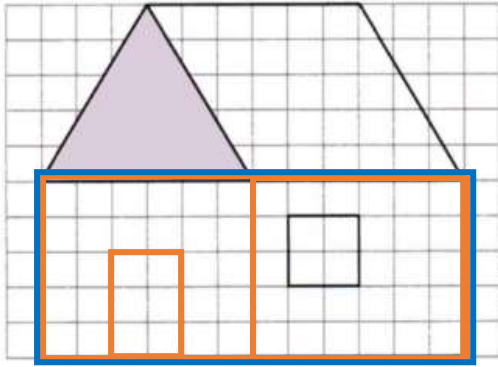
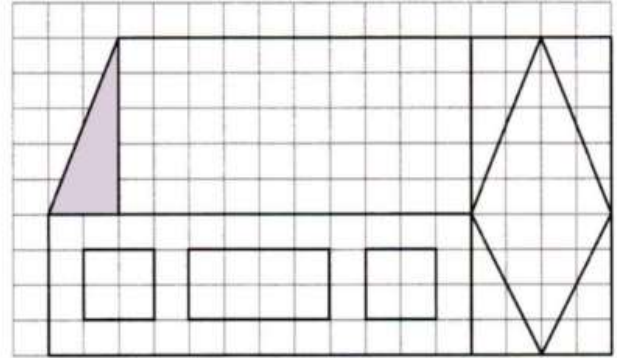


1 Observe bien ces deux assemblages de figures et complète les deux tableaux.

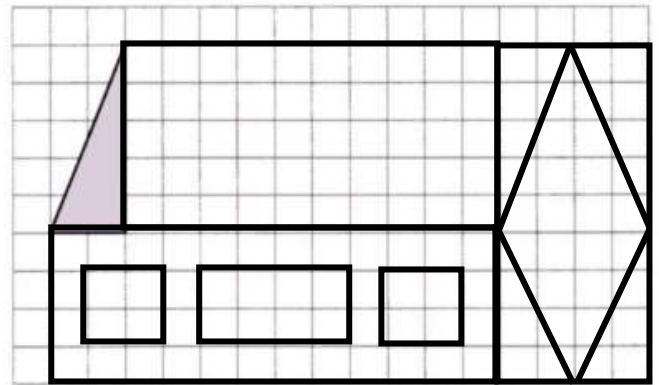
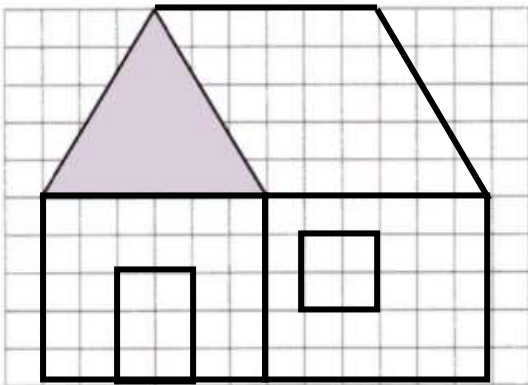


Nombre de ...	Carrés	1
	Losanges	1
	Triangles	1
	Rectangles	4



Nombre de ...	Carrés	2
	Losanges	1
	Triangles	5
	Rectangles	4

2 Reproduis les deux maisons de l'exercice 1.



3 Le défi de Robotine !

Construis l'assemblage comme indiqué dans les consignes. Colle les figures les unes aux autres.

- 1 rectangle de 7 cm de longueur et 4 cm de largeur.
- 1 carré de 3 cm de côté.
- 1 triangle équilatéral de 3 cm de côté.

