

Vendredi 26 juin CE 1:

LECTURE : :Gamme de lecture 2

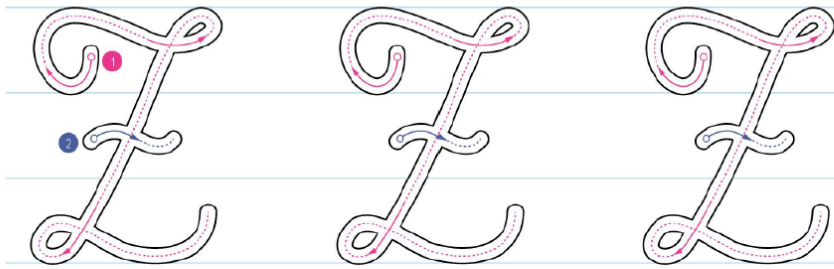
Ecriture : s'entraîner au brouillon puis au cahier du jour (vous pouvez aussi imprimer la page)

Dernière lettre !!!!


<https://www.youtube.com/watch?v=GN0DKfc1IAM>




Trace le modèle avec un gros feutre.



Trace le modèle avec un feutre fin.



Reproduis le modèle avec un crayon.



Zé

Zéro

Zélie

un zébre

Orthographe : dictée

Au cahier du jour :

Dictée de mots : **On me dicte les mots invariables que j'ai choisi.**

Phrases : Des beaux poissons rouges nagent entre les algues vertes.

Les joyeuses abeilles tournent au dessus de l'eau bleue.

Orthographe : J'accorde le groupe nominal voir lien

Mathématiques :

CE1 : Fichier : je révise pages 126 et 127

Facultatif : ARTS VISUELS :

Les sardines voir lien



Je prépare l'évaluation (4)

ON EN PARLE !
Voir le guide pédagogique.

- 16
- 13
- 19
- 20
- 6
- 6
- 5
- 40

1 Complète.

62 + 38 = 100
85 + 15 = 100

2 La température, lundi matin à 8 heures, était 15 degrés. Lundi soir à 17 heures, la température est 20 degrés. Quel est l'écart de température entre ces deux moments de la journée ?

écart : 5 degrés

3 Entre quelles centaines est situé chaque nombre ?

200 300 400 500 600

346 est situé entre 300 et 400.
435 est situé entre 400 et 500.

4 Place les nombres.

230 270 310 250

5 Calcule.

300 + 50 + 7 + 100 = 457
20 + 600 + 8 + 30 = 638
2 + 30 + 500 + 4 = 536

564 - 4 = 560
564 - 500 = 64
564 - 60 = 504

6 Calcule.

287 - 45
287 $\xrightarrow{-40}$ 247 $\xrightarrow{-5}$ 242

356 - 104
356 $\xrightarrow{-100}$ 256 $\xrightarrow{-4}$ 252

478 - 36
478 $\xrightarrow{-30}$ 448 $\xrightarrow{-6}$ 442

529 - 205
529 $\xrightarrow{-200}$ 329 $\xrightarrow{-5}$ 324

7 Complète pour faire 1 km.

500 m + 500 m = 1 km
600 m + 400 m = 1 km
800 m + 200 m = 1 km
950 m + 50 m = 1 km

1 km, c'est 1 000 m.

8 Pose et effectue les opérations.

936 - 415
446 + 308
453 + 24 + 352

9 Problème Sofiane doit lire un livre de 90 pages. Il lit 45 pages le premier soir, et 25 pages le deuxième soir. Combien de pages lui reste-t-il à lire ?

15 + 25 = 40
90 - 40 = 50

Il lui reste 50 pages à lire.

10 Problème Sur son album, Tony doit coller 5 photos par page. Il a 15 photos à coller. Combien de pages va-t-il remplir ?

15 = 3 x 5

Il va remplir 3 pages.

11 Le triangle doit être à l'intérieur d'un carré. Trace le carré.

12 Écris le nom de ce solide.

cube

Complète le tableau.

nombre de faces	6
nombre de sommets	8
nombre d'arêtes	12

Je vous souhaite un très bon week-end !